



ضع بجانب كل تسليحة أجبت عليها بطريقة صحيحة.



1

لَوْنِ الْأَشْيَاءِ الَّتِي يَسْتَعْمِلُهَا الْمُقَاوِمُ فِي الْجَبَّةِ.



2



أَكْمِلِ النَّمَطَ.

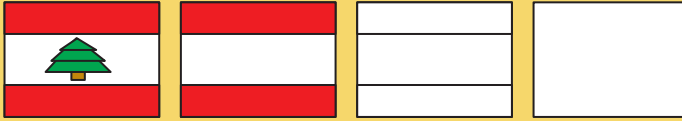


11

7 العدد مهدي



أرْسَم مَع رَائِدِ الْعَلَمِ اللَّبْنَانِي  
لِتَحْمِلَهُ فِي عِيدِ النَّصْرِ وَالتَّخْرِيرِ.



جِدِ الْفَوَارِقَ  
الْعَشْرَةَ بَيْنَ  
الرَّسْمَيْنِ.






كان جنود الإحتلال يزرعون الكثير من الألغام في الحقول. ساعد أرنوب في الوصول إلى حقل الجزر دون لمس هذه الألغام.




كم عدد الألغام من كل نوع؟



الرَّايَةَ الَّتِي يَحْمِلُهَا الْمَقَاوِمُ تَبْدَأُ بِحَرْفِ الرَّاءِ.  
هَلْ تَسْتَطِيعُ كِتَابَتَهُ بِشَكْلِ صَحِيحٍ؟

7





مَا رَأَيْكَ أَنْ تَرَسِّمَ رَسْمًا  
مُسْتَخْدِمًا حَرْفَ «ر».

9

ابْحَثْ عَن حَرْفِ «ر»  
فِي هَذَا الرَّسْمِ.

8





ألون

لُون الرَّسْمِ.

10




15

7 مَهْدِي العدد



سَاعِدْ هَذَا الْمُقَاوِمَ فِي الْوُصُولِ إِلَى  
الدَّشْمَةِ لِيُزْرَعَ رَايَةَ النُّصْرِ فِيهَا.



مَا هُوَ الظِّلُّ الصَّحِيحُ  
لِلْمُقَاوِمِ؟



7 مَهْدِي  
العَدَد

